

Шифр участника _____

ЗАДАНИЯ ДЛЯ ОБУЧАЮЩИХСЯ
Время выполнения заданий - 45 минут
Максимальное количество баллов – 100 баллов

Задание 1. Решите тестовые задания. Ответ запишите в таблицу.

Максимальный балл за задание – 10 баллов. За каждый правильный ответ – 2 балла.

1.1. Какое из перечисленных событий способствовало падению Западной Римской империи и послужило началом эпохи Средних веков в Европе.

- А) падение Восточной Римской империи
- Б) создание империи Карла Великого
- В) Великое переселение народов
- Г) зарождение христианства

1.2. Какое из Семи чудес света было создано царем Навуходоносором II для своей жены Амитис?

- А) Галикарнасский мавзолей
- Б) Висячие сады
- В) Фаросский маяк
- Г) Колосс Родосский

1.3. Какой римский император разрешил христианам строить храмы и открыто молиться?

- А) Константин
- Б) Нерон
- В) Ромул
- Г) Марк Аврелий

1.4. Ко II в. до н.э. в Римской империи обострился земельный вопрос, назовите кто из трибунов вступился за бедняков, и настоял на принятии земельного закона, по которому излишки государственной земли должны были розданы беднякам без права продажи?

- А) Октавий
- Б) Квинт Клавдий
- В) Гай Красс

Шифр участника _____

Г) Тиберий Гракх

1.5. Театральные представления зарождаются в Древней Греции, с празднествами в честь какого бога, связывают появление театра?

А) Зевс

Б) Аполлон

В) Дионис

Г) Посейдон

Ответ:

1.1	1.2	1.3	1.4	1.5

Задание 2. Установите ложность или правильность данных утверждений. («Да» - «Нет»). Максимальный балл за задание – 10 баллов. За каждый правильный ответ – 2 балла.

№	Утверждение	Да/нет
1	Верно ли, что подъем культуры в Западной Европе в VIII-IX веках называется эпоха Возрождения?	
2	Верно ли, что земля в Западной Европе принадлежала феодалам, а крестьяне были лишь её держателями?	
3	Верно ли, что первые университеты появились в эпоху Средневековья?	
4	Верно ли, что основной целью Крестовых походов было освобождение Пиренейского полуострова от арабов?	
5	Верно ли, что в Средневековье сложились языки многих народов: английский, немецкий, французский, испанский и др.?	

Задание 3. Восстановите правильную хронологическую последовательность событий. Ответ запишите в виде последовательности номеров событий.

Максимальный балл за задание – 3 балла.

А) Призвание Рюрика в Новгородскую землю

Б) Образование Арабского халифата

В) Разделение православной и католической церкви

Шифр участника _____

Г) Падение Константинополя

Ответ: _____

Задание 4. Установи соответствие между историческим деятелем и событием, связанным с ним. Ответ запишите в таблицу.

Максимальный балл за задание – 10 баллов. За каждый правильный ответ – 2 балла.

Исторический деятель	Историческое событие
4.1. Данте Алигьери	А Византийский император, создавший «Свод гражданского права»
4.2. Иоганн Гутенберг	Б Создание Франкской империи
4.3. Юстиниан	В Создание «Божественной комедии»
4.4. Ян Жижка	Г Изобретение книгопечатание
4.5. Карл Великий	Д Организатор и руководитель гуситских войск

Ответ:

4.1	4.2	4.3	4.4	4.5

Задание 5. По какому принципу образованы ряды?

Максимальный балл за задание – 10 баллов. За каждый правильный ответ – 2 балла.

5.1. герцог – барон - рыцарь _____

5.2. епископ – аббат – священник _____

5.3. барщина – натуральный оброк – денежный оброк - _____

5.4. Пипин Короткий – Карл Великий – Людовик I _____

5.5. грамматика - риторика – диалектика - _____

Задание 6. Прочитайте текст и вставьте пропущенные слова. Ответ запишите в таблицу.

Максимальный балл за задание – 18 баллов. За каждый правильный ответ – 2 балла.

В Средние века действовало правило «Нет земли без (1) ». В IX-X веках вся земля в Западной Европе оказалась у светских и духовных (2). Возникла феодальная (3) – хозяйство

Шифр участника _____

феодала, в котором работали (4). Пахотная и прочая земля в вотчине делилась на две части – (5) и (6) наделы. За пользование землей зависимые крестьяне должны были нести (7) (принудительные обязанности). Главными повинностями крестьян были (8) и (9).

Слова:

- | | |
|------------------------|-----------------|
| А. Зависимые крестьяне | Е. Вотчина |
| Б. Господскую | Ж. Барщина |
| В. Сеньор | З. Крестьянские |
| Г. Феодалов | И. Король |
| Д. Повинности | К. Оброк |

Ответ:

1	2	3	4	5	6	7	8	9

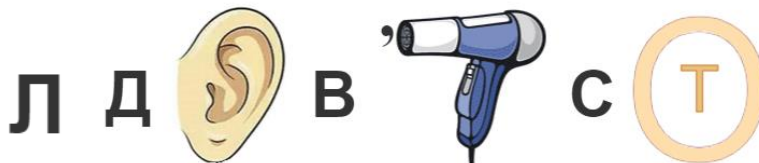
Задание 7. Разгадайте ребусы, и запишите ответы.

Максимальный балл за задание – 10 баллов. За каждый правильный ответ – 5 баллов.

А)



Б)



Ответ:

А) _____ Б) _____

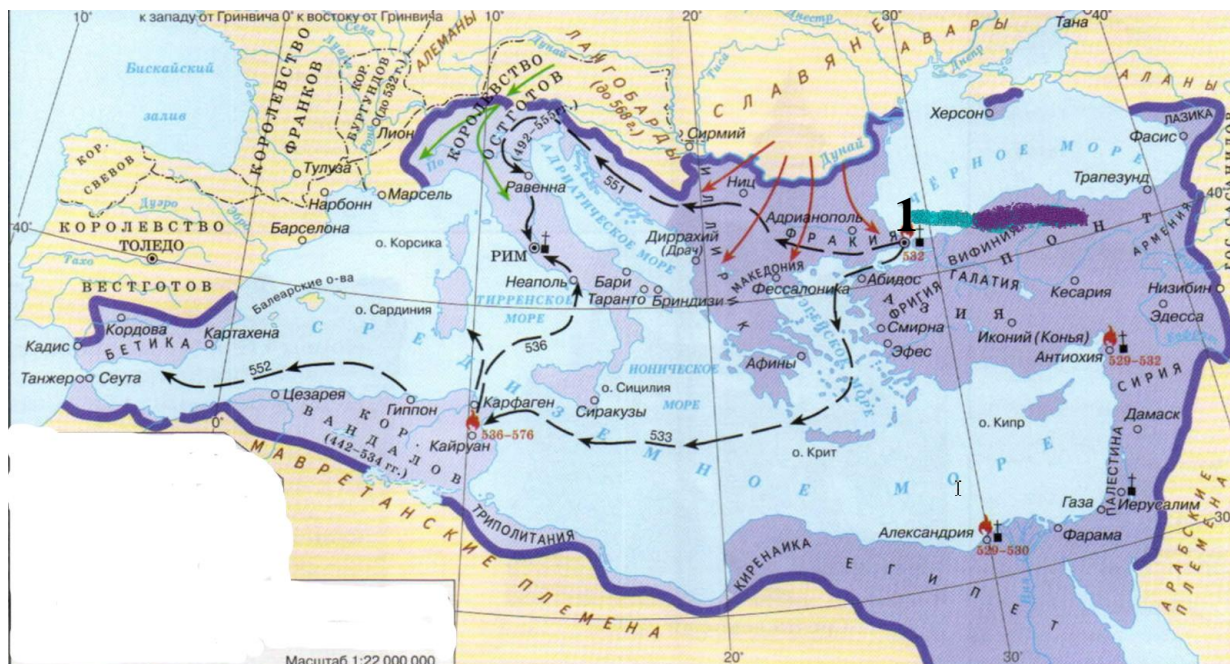
Задание 8. Работа с картой.

Рассмотрите карту и выполните задания.

Максимальный балл за задание – 9 баллов. За каждый правильный ответ – 3 балла.

- 8.1. Назовите государство, территория которого изображено на карте?
- 8.2. Назовите столицу данного государства, на карте обозначенную цифрой 1?
- 8.3. При каком императоре VI века н.э. данное государство достигло наибольшего своего могущества?

Шифр участника _____



Ответ:

- 8.1 _____
- 8.2 _____
- 8.3 _____

Задание 9. Решите кроссворд.

Максимальный балл за задание – 10 баллов. За каждый правильный ответ – 2 балла.


По горизонтали:

- 1. Укреплённое жилище феодала, преимущественно из камня, во время набегов неприятеля служил убежищем для населения.
- 3. Грамота об отпущении грехов, выдаваемая за деньги католической церковью от имени папы римского.
- 5. Религиозное учение, противоречащее основным положениям господствующей католической церкви, отступление от «истинной веры».

По вертикали:

- 2. Сословно-представительные региональные собрания в государствах Пиренейского полуострова.
- 4. Тяжеловооруженный воин в средневековой армии, сражавшийся верхом на коне.

Шифр участника _____



Задание 10. Рассмотрите фотографию, и ответьте на вопросы.

Максимальный балл за задание – 10 баллов. За каждый правильный ответ – 5 баллов.

В августе 2023 года на Иртышской набережной г. Омска был установлен памятник, рассмотрите фотографию и ответьте на вопросы:

10.1. Назовите исторического деятеля кому был установлен данный памятник?

10.2. Как данный исторический деятель был связан с городом Омском?

Ответ:

10.1. _____

10.2. _____

